

1



Mia bor i et hvidt hus med sin mor og sin far. Mias mor er 38 år og Mias far er 39 år.

Hvor gammel er Mias mor og far tilsammen?


2



Caroline er i Tivoli med sin kusine. Caroline køber en is til 35 kr., en slikkepind for 25 kr. og en bamse for 15 kr.

Hvor mange penge har Caroline brugt tilsammen?

3




Sophus er 8 år og går i 2. klasse. Han har en mor på 42 år og en far på 41 år. Hans lillesøster er 5 år og hans lillebror er 1 år.

Hvor gammel er Sophus' forældre tilsammen?

© Mat-nat.dk

4



Sophus er 8 år og går i 2. klasse. Han har en mor på 42 år og en far på 41 år. Hans lillesøster er 5 år og hans lillebror er 1 år.

Hvor gammel er børnene i Sophus' familie tilsammen?

© Mat-nat.dk

5



Bo er ude at cykle. Han cykler hjemmefra kl. 9 og ankommer hos sin mormor og morfar kl 11. Der er 13 km fra Bos hjem til mormor og morfar.

Hvor langt har Bo cyklet, når han også cykler hjem igen?

6



Pia er ude at cykle. Han cykler hjemmefra kl. 9 og ankommer hos sin mormor og morfar kl 11. Der er 13 km fra Pias hjem til mormor og morfar.

Hvor lang tid har Pia brugt på at cykle ud til mormor og morfar?



7



Ole er ude at cykle. Han cykler hjemmefra kl. 9 og ankommer hos sin mormor og morfar kl. 11. Der er 13 km fra Oles hjem til mormor og morfar.

Hvor lang tid har Ole cyklet, når han bruger lige så lang tid på at cykle hjem?

8



Katrine skal have en kanin. Hun køber et kaninbur til 67 kr. og kaninfoder til 24 kr. Kaninen er 6 uger og helt sort.

Hvor mange penge har Katrine brugt på bur og mad til kaningen?



9



Fies mor vejer 66 kg.

Fie vejer halvt så meget som sin mor.

Hvad vejer Fie

10



Brians mor har købt 97 æbler. Til Brians fødselsdag blev der spist nogle af æblerne. Efter fødselsdagen var der 68 æbler tilbage.

Hvor mange æbler blev der spist til Brians fødselsdag?

11



En skål er fyldt med slik. Da jeg havde spist 12 stykker, var der 36 stykker tilbage.

Hvor mange stykker slik var der i skålen fra start?


12



Et træ har tabt 67 blade. Nu falder endnu 23 blade af træet.

Hvor mange blade har træet mistet?

13



I 2.b er der 27 elever. Deres klasselærer hedder Pia. Der er 12 drenge i klassen.

Hvor mange piger er der i 2.b?

14



I 2.a. er der 14 drenge og 11 piger.  
Hvor mange børn er der i 2.a?



15



I 2.c er der 26 elever. Der er lige mange drenge og piger.

Hvor mange piger er der i 2.c?

16



Susan plukker en buket til sin mor. Hun plukker 5 blå blomster, 12 gule blomster og 4 røde blomster.

Hvor mange blomster er der i buketten?

17



Ole har 19 æbler i en kurv. Senere lægger han 12 æbler flere i kurven.

Hvor mange æbler er der nu i kurven?

18



Det er fredag aften. Marie og Anne ser TV. De spiser slik. Marie spiser 8 stykker og Anne spiser 13 stykker.

Hvor mange flere stykker slik spiser Anne end Marie?

19



Jakob har 15 kroner i sin lomme. Han får nu 12 kr. af sin morfar. Dem putter han også i lommen. Han vil købe is for pengene.

Hvor mange penge har han i lommen?

20



Peter er ved at spare op til et nyt computerspil. Han har 58 kroner i sin sparegris. Han får 23 kr. af sin mor. Den kommer han også i sparegrisen.

Hvor mange penge har han sparet sammen?



21



Karen har haft 37 armbånd. Nu har hun mistet 13 armbånd.

Hvor mange armbånd har hun nu tilbage?

22



Der er 26 kager i en pakke. Erik spiste 9 kager og Carl spiste 7 kager.

Hvor mange kager er der tilbage i pakken?

23



På en parkeringsplads holder der 23 røde biler, 12 blå biler og 15 sorte biler.

Hvor mange biler holder der på parkeringspladsen?

24



Min kat har fanget 47 mus i sidste uge. I denne uge har den fanget 38 mus.

Hvor mange mus har den fanget de to sidste uger?

|    |  |    |  |
|----|--|----|--|
| 1  |  | 13 |  |
| 2  |  | 14 |  |
| 3  |  | 15 |  |
| 4  |  | 16 |  |
| 5  |  | 17 |  |
| 6  |  | 18 |  |
| 7  |  | 19 |  |
| 8  |  | 20 |  |
| 9  |  | 21 |  |
| 10 |  | 22 |  |
| 11 |  | 23 |  |
| 12 |  | 24 |  |

# Regn eller tegn