

Rekorder og fakta i Dansk Landbrug: QR Challenge




Rekorder og fakta i Dansk Landbrug: QR Challenge



Question 1 (of 10)

© Mat-nat.dk




Rekorder og fakta i Dansk Landbrug: QR Challenge



Question 2 (of 10)

© Mat-nat.dk




Rekorder og fakta i Dansk Landbrug: QR Challenge



Question 3 (of 10)

© Mat-nat.dk




Rekorder og fakta i Dansk Landbrug: QR Challenge



Question 4 (of 10)

© Mat-nat.dk




Rekorder og fakta i Dansk Landbrug: QR Challenge



Question 5 (of 10)

© Mat-nat.dk




Rekorder og fakta i Dansk Landbrug: QR Challenge




Question 6 (of 10)

© Mat-nat.dk



Rekorder og fakta i Dansk Landbrug: QR Challenge



Question 7 (of 10)


© Mat-nat.dk

Rekorder og fakta i Dansk Landbrug: QR Challenge




Question 8 (of 10)

© Mat-nat.dk



Rekorder og fakta i Dansk Landbrug: QR Challenge




Question 9 (of 10)

Rekorder og fakta i Dansk Landbrug: QR Challenge



Question 10 (of 10)

© Mat-nat.dk



Spørgsmål og svar

- Hvor stort er Danmarks største lansbrug – Brengtved? a) 1,5 km² b) 3,5 km² c) 5,5 km²
- Hvor mange kreaturer består Danmarks største kvæghold af (Kurt Jensen 2008)? a) 4100 b) 6100 c) 8100*a
- Hvor meget mælk kan en malkeko producere i sin levetid (Funkis 1018)? a) 85.176 liter b) 135.176 liter c) 185.176 liter*c
- Hvor meget mælk producere en gennemsnitlig malkeko om dagen? a) 6 liter b) 16 liter c) 26 liter*c
- Hvor meget vejede Danmarks største ko inden den blev slagtet? a) 1,2 ton b) 1,5 ton c) 1,7 ton*a
- Hvor mange grise producere det danske landbrug om året? a) 10 mio. b) 20 mio. c) 30 mio.*c
- Hvor meget vejer en gennemsnitlig gris, når den sendes til slagtning? a) 85 kg b) 105 kg c) 125 kg*b
- Danmark har verdens højeste antal grise pr. indbygger. Hvor mange grise pr. indbygger? a) 1,31 grise pr. indb. b) 1,81 grise pr. indb. c) 2,31 grise pr. indb.*c
- Hvad vejer verdens største hønseæg? a) 140 g b) 240 g c) 340 g*c
- Hvad vejer den tungeste høne man kender til i Danmark? a) 10,5 kg b) 12,5 kg c) 14,5 kg*a