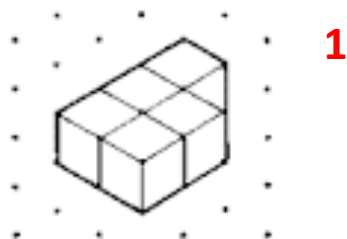


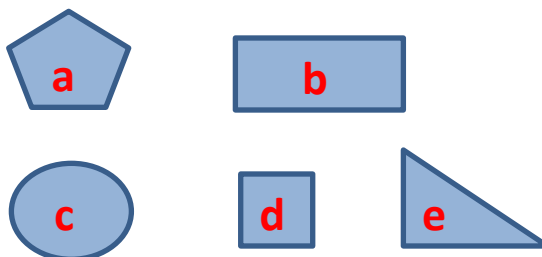


Navn: \_\_\_\_\_


Hvor mange centicubes består figuren af?



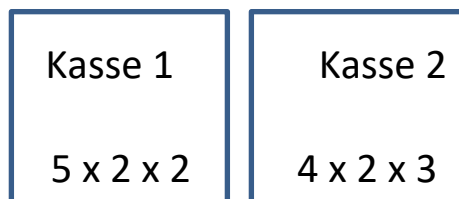
Hvilke af figurerne er rektangler?



Fortsæt mønsteret. Hvilken farve har den markerede cirkel?



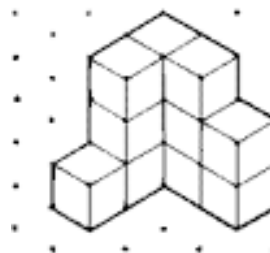
Hvilken kasse har det største rumfang?




Hvor stort er rumfanget af en kasse med sidelængderne:

$$3 \times 2 \times 4$$

Hvor mange centicubes består figuren af?



Fortsæt mønsteret. Hvilken farve har den markerede cirkel?



Hvor stort er rumfanget af en kasse med sidelængderne:

$$5 \times 1 \times 3$$